

Nomes de lugares Wabanaki na caça ao tesouro do Maine

Nome: _____

Instruções: Procure os seguintes locais nos mapas. Você pode usar o mapa de nomes Wabanaki para ajudá-lo a encontrá-los. Quando você encontrar a localização em um mapa e ela corresponder à imagem na folha, escreva a Carta Pista no local da resposta.

1. Carta Pista: _____
Cataratas
Caratunk significa
"riacho torto"



7. Carta Pista: _____
Ilha Monhegan
significa *"para a ilha do mar"*



2. Carta Pista: _____
Pemmaquid Pt
significa *"terra correndo para o mar"*




8. Carta Pista: _____
Cataratas
Takonnik
significa *"lugar para atravessar"*
(Taconic)



3. Carta Pista: _____
Baía de Casco
significa *"baía lamacenta"*




9. Carta Pista: _____
Ilha Seguin
significa *"ilha alta e arredondada"*



10. Carta Pista: _____
Cabo Neddick
significa *"rocha solitária"*




4. Carta Pista: _____
Norridgewock
significa *"onde o rio rápido desce"*



11. Carta Pista: _____
Lago
Cobesconti
significa
"bastante esturjão" (Cobbosseecontee)



5. Carta Pista: _____
Rio Kennebec
significa *"água parada por muito tempo"*



12. Carta Pista: _____
Lago Umbagog
significa *"água limpa"*



6. Carta Pista: _____
Rio Sheepscutt
significa *"rio com muitos canais"*
(Sheepscot)



13. Carta Pista: _____
Wiscasset
significa *"saída escondida"*




14. Carta Pista: _____

Lago Sebago
significa "*grande
áqua parada*"



17. Carta Pista: _____

Lago Molechunkemunk
significa "águas profundas"



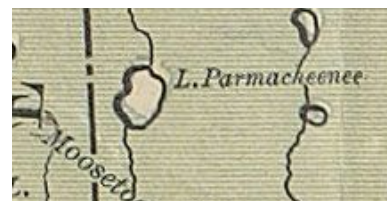
15. Carta Pista:

Kennebunk
significa "*banco de corte longo*"



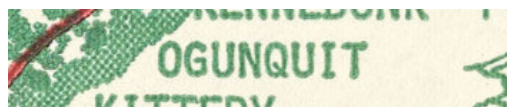
18. Carta Pista:

Lago
Parmachenee
significa "*através*
do caminho
habitual"



16. Carta Pista:

Skowhegan
significa "*local de observação*"



19. Carta Pista:

Ogunquit significa "*lagoa do banco de areia*"

Seção de quebra de código

Instruções: Para cada espaço em branco, olhe para o pequeno número abaixo e coloque a resposta para o número da pergunta no espaço em branco. Por exemplo, se você tivesse encontrado 'X' para a Pergunta 1 (Caratunk), você colocaria 'X' em todos os espaços em branco que tivessem um pequeno 01 debaixo de.

[illegible]

Baseado nas traduções...

Se você tivesse que escolher um dos locais mencionados nesta planilha para pescar, onde você escolheria e por quê?

Se você tivesse que escolher um dos locais para aprender a nadar, onde escolheria e por quê?

Se você tivesse que escolher um dos locais para esconder seu barco, onde escolheria e por quê?